




05.10.2012

### Übungsaufgaben 1

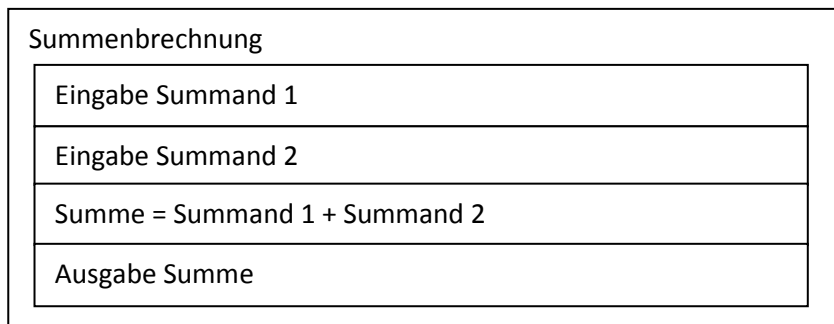
1. Entwerfen Sie ein Struktogramm, das das Ergebnis aus  $12345 + 11111$  ausgibt.



2. Entwerfen Sie ein Struktogramm, das das Quadrat aus einem beliebigen Eingabewert berechnet.

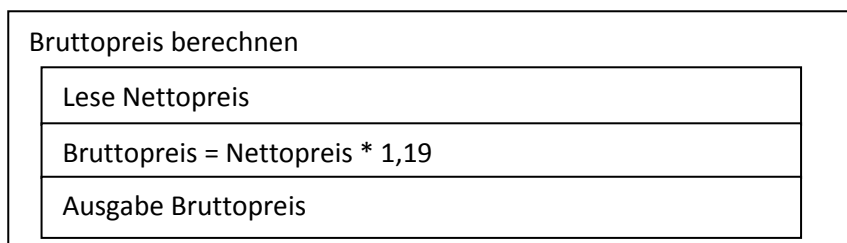


3. Entwerfen Sie ein Struktogramm, das zwei Zahlen einliest, addiert und ausgibt.



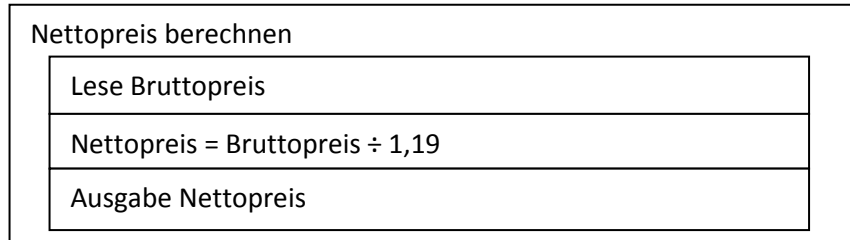
### Übungsaufgaben 2

1. Entwerfen Sie ein Struktogramm, das einen Nettopreis einliest und den zugehörigen Bruttopreis ausgibt.

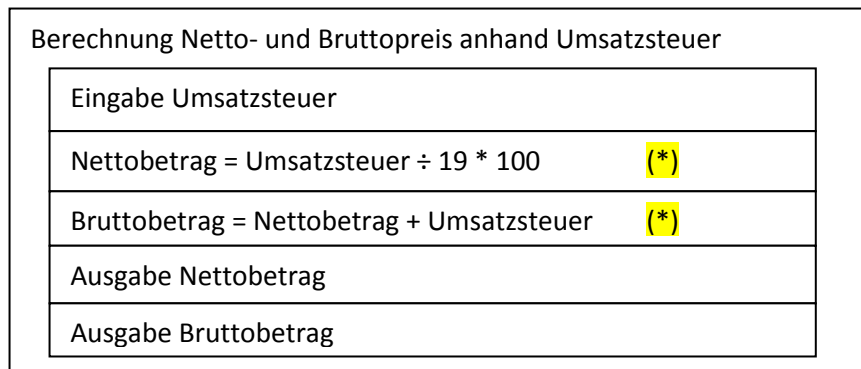




2. Entwerfen Sie ein Struktogramm, das einen Bruttopreis einliest und den zugehörigen Nettopreis ausgibt.



3. Entwerfen Sie ein Struktogramm, das einen Umsatzsteuerbetrag einliest und den zugehörigen Brutto- und Nettowert ausgibt.



(\*) Alternative Berechnung:

